


Jij iets gevonden?

Hoe had u het eigenlijk moeten doen.....

Moeten we hier links?




KOREA

Welke jaartal staat er onder "ARNOTTE"?



Hè?



Hoeveel honden staan er afgebeeld op het eerste informatiebord langs de route?



????????

Wat bedoelen ze hier nou weer mee???

Dag 1
Vrijdag 17 mei 2019



Traject 1.1 Een abdiij hoort erbij

Neutraal traject: geen bijzonderheden



Traject 1.2 We kijken wel of we iets over het hoofd zien...

Vragen

AB1. Hoeveel honden staan er afgebeeld op het eerste informatiebord langs de route?

AB2. Welke kleur heeft het driehoekige symbool voor een wandelroute?

AB3. Wat staat er onder het telefoonnummer van “infrax”?

A4. Hoeveel leestekens staan er op het bordje “Regionaal Landschap Lage Kempen”?


B4. Wat is de postcode van Houthalen-Helchteren?

AB5. Wat voor slot is het ABUS-slot?

A6. Hoeveel punten staan er op de sticker van Arcos (dubbele punten niet meegerekend)?

B6. Waarmee houdt Arcos zich bezig?

AB7. Welk nummer hoort bij Mars linie?



AB1. 5

AB2. Rood



AB3.

Verboden aan te plakken

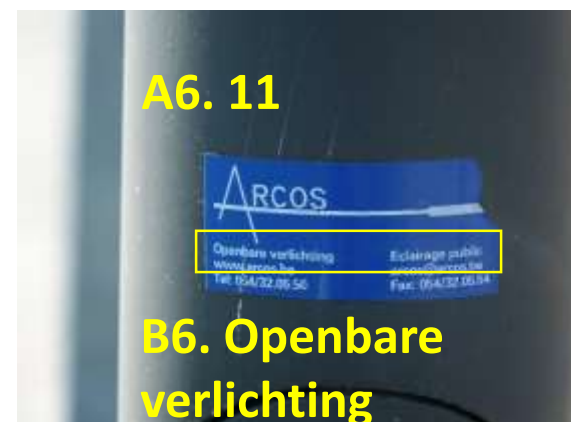


A4. 8

B4. 3560



AB5. cijferslot



A6. 11

B6. Openbare verlichting



AB7. 11

Traject 1.2 We kijken wel of we iets over het hoofd zien...

A-klassement

Dia's

1	H	2	V	3	Z	4	A	5	P	6	D
7		8		9		10		11		12	

B-klassement

Dia's

1	H	2	Z	3	P	4	D	5		6	
7		8		9		10		11		12	



Traject 1.2 We kijken wel of we iets over het hoofd zien...

A-klassement

Foto's in volgorde zetten

1	D	2	N	3	Q	4	L	5	E
6	F	7	H	8	T	9	S	10	M



Traject 1.3 Van A(bdij) naar B(olland).

Neutraal traject: niks aan het handje!

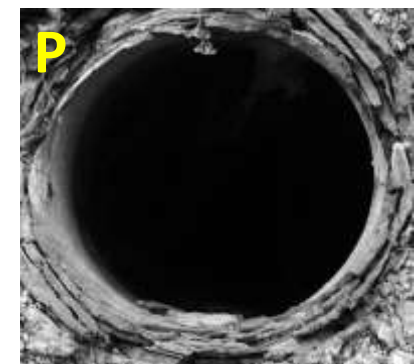





Traject 1.4 Wat is hier te zien?

A-klassement

Drie grijze fotobladen met 33 zwart-wit foto's: Op controlekaart doorkruisen welke objecten aanwezig waren in Bolland.

De volgende objecten waren te vinden:



Traject 1.4 Wat is hier te zien?

Hoe moest dat er dan uitzien op de controlekaart voor A?

Foto's

A	B	C	D	E	F	G	H	I	J	K
--------------	--------------	---	---	---	---	---	--------------	---	--------------	---

L	M	N	O	P	Q	R	S	T	U	V
--------------	---	---	---	--------------	---	--------------	---	--------------	--------------	---

W	X	Y	Z	1	2	3	4	5	6	7
--------------	---	---	---	--------------	---	--------------	---	---	---	---

Traject 1.4 Wat is hier te zien?

B-klassement

Drie witte fotobladen met 26 kleurenfoto's: Op controlekaart doorkruisen welke objecten aanwezig waren in Bolland.

De volgende objecten waren niet te vinden:



Traject 1.4 Wat is hier te zien?

Hoe moest dat er dan uitzien op de controlekaart voor B?

Foto's

A	B	C	D	E	F	G	H	I	J	K
--------------	---	--------------	--------------	---	--------------	--------------	---	---	--------------	--------------

L	M	N	O	P	Q	R	S	T	U	V
---	--------------	---	---	---	---	--------------	---	---	---	---

W	X	Y	Z	1	2	3	4	5	6	7
--------------	--------------	---	--------------	---	---	---	---	---	---	---

Traject 1.5 Op naar het Lourdes van het noorden.

Neutraal traject: geen enkel probleem!



Traject 1.6 Niet te snel, dan kom je er wel.

Voor het A- en B-klassement: onbemande controles

Voor het A-klassement alleen: voorruitfoto's

Foto's door de voorruit

3F	4D	6E	7A	7H	8C	11E	12G
1	2	3	4	5	6	7	8



Traject 1.7 Wat een kruisweg!

Voor A- en B-klassement;
wandelaroute met 2 opdrachten

A-klassement:

Opdracht 1A maximaal 3 foto's per land en
opdracht 1B met foto's van vakken in één kleur


B-klassement: Opdracht 1A maximaal 2 foto's
per land en opdracht 1B met foto's van vakken
met handen of voeten



Volgorde niet belangrijk,
A-foto's in rood

Opdracht 1A

Land-nr	Detail foto	Detail foto	Detail foto
1	O		
2	J	Y	
3	-		
4	C	H	W
5	A	R	V
6	D	S	
7	E	N	
8	Q		
9			
10	P		
11	F	U	Z
12	L	M	X
13	T		



Traject 1.7 Wat een kruisweg!

B-klassement Opdracht 1B

Kruis weg	Detail foto
I	L
II	F
III	O
IV	B
V	R
VI	S
VII	N
VIII	K
IX	G
X	A
XI	M
XII	C
XIII	P
XIV	H

A-klassement Opdracht 1B

Kruis weg	Detail foto
I	H
II	E
III	N
IV	O
V	B
VI	D
VII	C
VIII	R
IX	G
X	L
XI	M
XII	P
XIII	F
XIV	S



A-klassement



B-klassement

A-klassement: fout



Traject 1.8 Het laatste loodje weegt niet zo zwaar.

Voor A- en B-klassement: foto's en antwoorden zoeken bij 3 kerken. Voor beide klassementen 2 foto's per kerk, voor A-rijders meer vragen en onbekend bij welke kerk de antwoorden te vinden zijn. Voor de B-rijders bij iedere kerk één vraag.

Vragen A-klassement:


1. Welke jaartal staat er onder "ARNOTTE"?
2. Welk jaartal staat er direct onder "FJ D"?
3. Waarop staat "INRI"?
4. Hoeveel ruitjes zitten er in het raam boven de deur?
5. Waarop staat "110 m/m" (bij m/m staan de letters op verschillende hoogte)?
6. Welke voornamen horen bij "MONTULET"?
7. Welke woorden staan er onder "Region Wallonne"?

Vragen B-klassement:

Olné: Welke jaartal staat er onder "ARNOTTE"?

Saint-Hadelin: Welk jaartal staat er direct onder "FJ D"?

Forêt: Hoeveel raampjes zitten er in het raam boven de deur?



6. Deugene Guillaume
Joseph(2x) Dieudonne Jean
Pierre Adolphe




Traject 1.8 Het laatste loodje weegt niet zo zwaar.

A-klassement: Puzzelstukken zoeken bij 3 kerkgebouwen

Olné:



Forêt:



Traject 1.8 Het laatste loodje weegt niet zo zwaar.

A-klassement:Puzzelstukken zoeken bij 3 kerkgebouwen

Saint-Hadelin:



Detailfoto's per kerk

Olné	M	P
Saint-Hadelin	L	N
Forêt	O	Q

Traject 1.8 Het laatste loodje weegt niet zo zwaar.

B-klassement: Foto's zoeken bij 3 kerkgebouwen

Saint-Hadelin:



Plaatsnaam	Letters	
Olné	B	E
Saint-Hadelin	A	D
Forêt	C	F

Forêt:



Olné:



Traject 1.8 Het laatste loodje weegt niet zo zwaar.

Finishvraag: Hoeveel routeopdrachten staan er in het routeboek op de eerste dag (17-05)?

Voor A en B: 151

152-157 en 145-150=1 strafpunt

158-162 en 140-144=4 strafpunten

163-167 en 135-139=7 strafpunten

> 167 en < 135 = 10 strafpunten

Traject 1.9 We breien er voorlopig een eind aan.

Neutraal naar het hotel; geen centje pijn



Dag 2
Zaterdag 18 mei 2019



Traject 2.1 Op de vroege morgen naar de kerk



E 8



J 22



C 22



G 13



= achterkant van



A 16



F 25



Alleen A-klass.



B 26

H 30

K 37


D 41

LS

En nogmaals G, nu met 17

Traject 2.2 Op naar de ster...

Neutraal traject: Wat kan er misgaan?



Traject 2.3 Heggen, hagen en bomen



E



L



Een beetje
omkijken :

R



F



M; alleen voor A-klass.



A



Een beetje
omkijken :
V; alleen voor A-klass.





Q



W; alleen voor A-klass.



C; alleen voor A-klass.





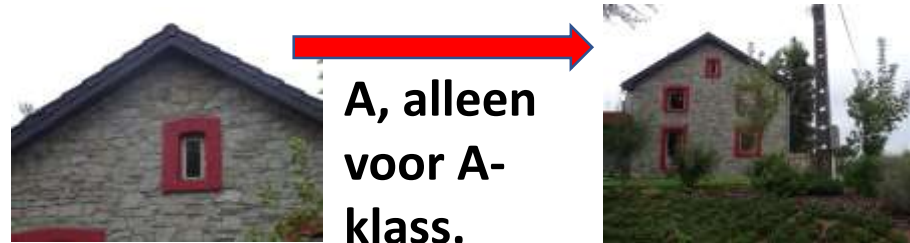

S



N; alleen voor A-klass.



Traject 2.3 Rode Draad



Deze ook in traj. 2.5 in Robertville

Traject 2.4 Wa'n Belse keien

Alleen
A

A en B

1




J M

S P

F C

3



Q N

E B


2



R O

L H

4



K G

D A

Traject 2.5 Vier op een rij, welke hoort er niet bij?



Sourbrodt






C 4 (Eentje zit op het dak)



Xhoffraix



D 1 (Eentje zit links van de deur)





Ovifat



B 5 (Eentje zit niet op de toren)

Robertville, alleen A-klass.



B 7 (Een foto is 90 graden gedraaid)



Traject 2.5 Vier op een rij, welke hoort er niet bij? Rode Draad

Sourbrodt



K



E is fout : links

Ovifat



S



Xhoffraix



H



Robertville



D



Traject 2.5 Vier op een rij, welke hoort er niet bij? Dia's

Sourbrodt; alleen A-klasse.



M is fout (links)



Xhoffraix (willekeurige volgorde)



X



S



C



Traj. 2.5 Dia's

Ovifat (willekeurige volgorde)



Q; A-klass.
90 gr gedraaid



Y



L



T; A-klass.
180 gr gedraaid



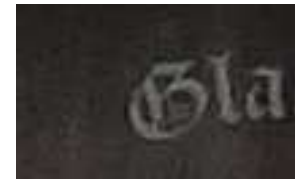
Robertville (willekeurige volgorde)



B



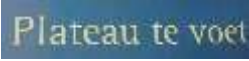


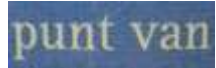


R



W;
B-klass.



Traject 2.6 Rebus 1 bij
routeopdracht 6

- Welke 2 letters staan direct voor  + E
- Welke woord staat er vóór 
- Welke 3 letters staan direct voor  -/- T
- Welke woord staat er vóór 
- Welke woord staat er vóór 
- Welke woord staat er na  oi = u
- Welke letters staan er na  el = an
- Wat staat er onder  -/- de
- ?

Hoe

hoog

is

het

hoogste

punt

van

Belgique

?



Antwoord : 694 m

Traject 2.6 Rebus 2 bij routeopdracht 10

Welke woord staat er na  L = Ho
+ L

Welke woord staat er na  p = v
-/- ne


Welke woord staat er na 

+

Welke woord staat er na  d = z



+ welke woord staat er na  Heer=pa

Wat staat er na  ei = aa

Welke 2 letters staan er na 

Wat letter staat er voor  + p

Welk woordje staat boven 

Wat staat er na  ?

Hoeveel 

van 

de }
ze } deze

lantaarnpalen 

staan

er

op 

de

Parking?

Antwoord : 3



Traject 2.7 Nu zetten we de neus bijna richting huis

Neutraal traject: Geen vuiltje aan de lucht!!!



Traject 2.8 Steenkolenmijn Blegny als Unesco werelderfgoed



1. Welk percentage mijngas wordt hier gemeten?




3 %

2. Hoeveel ronde gaten bevat het op de foto zichtbare deel van het monument?



12 : 4 per wiel, 2 wielen + 2 in biels + 1 in biels achter + 1 bovenop klomp



3. Waar komt "BSR" voor, op de objecten op foto A of B?

A



4. Wat is de achternaam van "Mark"?

- (er staat "Marc")



5. Wat staat er na "Coll."?

- (staat niet op foto)



6. Wat staat er onder "DEMAG"?

Duisburg

Traject 2.9 Op naar de finish....

**Neutraal traject: Fluitje van een cent!
Op naar Eindhoven, eten, evaluatie en einduitslag**

